

1. Κάνε τις παρακάτω πράξεις.

$7 + 8 = \underline{\quad}$

$49 + 8 = \underline{\quad}$

$83 + 12 = \underline{\quad}$

$40 + 50 = \underline{\quad}$

$15 + 15 = \underline{\quad}$

$58 + 10 = \underline{\quad}$

$30 + 30 = \underline{\quad}$

$66 + 4 = \underline{\quad}$

$29 + 8 = \underline{\quad}$

$80 + 10 = \underline{\quad}$

$40 - 1 = \underline{\quad}$

$90 - 30 = \underline{\quad}$

$87 - 20 = \underline{\quad}$

$45 - 6 = \underline{\quad}$

$65 - 10 = \underline{\quad}$

2. Γράψε το σωστό αριθμό.

$6 \Delta \text{ και } 2 M = \underline{\quad}$

$7 \Delta \text{ και } 3 M = \underline{\quad}$

$3 \Delta \text{ και } 1 M = \underline{\quad}$

$9 \Delta \text{ και } 8 M = \underline{\quad}$

$5 \Delta \text{ και } 9 M = \underline{\quad}$

$4 \Delta \text{ και } 8 M = \underline{\quad}$

$8 \Delta \text{ και } 3 M = \underline{\quad}$

$2 \Delta \text{ και } 0 M = \underline{\quad}$

3. Συμπλήρωσε τον αριθμό που λείπει.

$20 + \underline{\quad} = 26$

$30 + \underline{\quad} = 37$

$40 + \underline{\quad} = 42$

$50 + \underline{\quad} = 55$

$70 + \underline{\quad} = 78$

$41 + \underline{\quad} = 45$

$32 + \underline{\quad} = 37$

$25 + \underline{\quad} = 28$

$34 + \underline{\quad} = 39$

$24 + \underline{\quad} = 30$

$76 + \underline{\quad} = 79$

$56 + \underline{\quad} = 58$

$45 + \underline{\quad} = 50$

$27 + \underline{\quad} = 30$

$44 + \underline{\quad} = 48$

4. Παρατήρησε τους αριθμούς στους άβακες και κύκλωσε το σωστό κουτάκι.

<p>Δ Μ</p> <p>34</p> <p>43</p> <p>24</p>	<p>Δ Μ</p> <p>36</p> <p>63</p> <p>26</p>	<p>Δ Μ</p> <p>24</p> <p>42</p> <p>34</p>
<p>Δ Μ</p> <p>54</p> <p>45</p> <p>55</p>	<p>Δ Μ</p> <p>67</p> <p>37</p> <p>73</p>	<p>Δ Μ</p> <p>67</p> <p>76</p> <p>77</p>

5. Σχεδίασε στους άβακες τους παρακάτω αριθμούς.

<p>Δ Μ</p> <p>76</p>	<p>Δ Μ</p> <p>90</p>	<p>Δ Μ</p> <p>58</p>
<p>Δ Μ</p> <p>69</p>	<p>Δ Μ</p> <p>84</p>	<p>Δ Μ</p> <p>45</p>

6. Υπολόγισε σωστά και κύκλωσε το σωστό αποτέλεσμα.

$34+22=$ _____

54 55 56

$51+37=$ _____

88 89 90

$21+52=$ _____

72 73 74

$63+24=$ _____

86 87 88

$50+14=$ _____

64 63 62

$22+36=$ _____

58 59 60

$15+14=$ _____

29 28 27

$45+34=$ _____

78 79 80

$35+54=$ _____

87 88 89

7. Υπολόγισε σωστά και κύκλωσε το σωστό κουτάκι.

$58-24=$ _____

61 62 63

$67-34=$ _____

32 33 34

$85-42=$ _____

43 42 41

$96-33=$ _____

62 63 64

$88-45=$ _____

43 42 41

$59-27=$ _____

31 32 33

$75-35=$ _____

42 41 40

$87-45=$ _____

40 41 42

$69-36=$ _____

33 34 35

8. Κύκλωσε τον ενδιαμέσο αριθμό.

$34+$ _____ $=54$

10 20 30


$56+$ _____ $=86$

10 20 30

$22+$ _____ $=52$


10 20 30

Ο Κυριάκος είχε 39 κάρτες. Τις 16 κάρτες του τις έδωσε ο ξάδερφός του και οι υπόλοιπες ήταν δικές του. Πόσες κάρτες ήταν δικές του;




Απάντηση: _____

Ο κος Φουρναρίδης είναι ο φούρναρης της γειτονιάς και φτιάχνει τα καλύτερα τσουρεκάκια. Η Έλσα αγόρασε 7 τσουρεκάκια και ο Σταμάτης 8. Αν ο κος Φουρναρίδης έχει τώρα 24 τσουρεκάκια, πόσα τσουρεκάκια έψησε συνολικά;



Απάντηση: _____

Η Αγγελική είχε 60 λαστιχάκια για τα μαλλιά. Τα 30 από αυτά της χάλασαν και από αυτά που έμειναν έδωσε τα 9 στην αδερφή της. Πόσα λαστιχάκια έχει τώρα η Αγγελική;



Απάντηση: _____

Κύκλωσε το επόμενο κομμάτι.

Κύκλωσε αυτό που δεν ταιριάζει με τα υπόλοιπα.
