

**A.** Γράψε μέσα στο κουτάκι το σωστό αποτέλεσμα.

$5 \times 2 =$	<input type="text"/>	$3 \times 7 =$	<input type="text"/>	$7 \times 8 =$	<input type="text"/>
$8 \times 6 =$	<input type="text"/>	$4 \times 6 =$	<input type="text"/>	$7 \times 7 =$	<input type="text"/>
$7 \times 6 =$	<input type="text"/>	$8 \times 7 =$	<input type="text"/>	$2 \times 6 =$	<input type="text"/>
$4 \times 4 =$	<input type="text"/>	$6 \times 6 =$	<input type="text"/>	$8 \times 2 =$	<input type="text"/>
$5 \times 6 =$	<input type="text"/>	$2 \times 9 =$	<input type="text"/>	$9 \times 4 =$	<input type="text"/>
$7 \times 9 =$	<input type="text"/>	$9 \times 6 =$	<input type="text"/>	$8 \times 4 =$	<input type="text"/>
$6 \times 3 =$	<input type="text"/>	$3 \times 8 =$	<input type="text"/>	$2 \times 9 =$	<input type="text"/>

**B.** Συμπλήρωσε το σωστό αριθμό.

<input type="text"/> $\times 2 = 18$	<input type="text"/> $\times 10 = 30$	<input type="text"/> $\times 4 = 32$
<input type="text"/> $\times 7 = 63$	<input type="text"/> $\times 6 = 36$	<input type="text"/> $\times 9 = 45$
<input type="text"/> $\times 8 = 40$	<input type="text"/> $\times 4 = 28$	<input type="text"/> $\times 2 = 16$
<input type="text"/> $\times 9 = 81$	<input type="text"/> $\times 7 = 42$	<input type="text"/> $\times 3 = 18$
<input type="text"/> $\times 6 = 54$	<input type="text"/> $\times 8 = 64$	<input type="text"/> $\times 5 = 35$
<input type="text"/> $\times 5 = 45$	<input type="text"/> $\times 9 = 72$	<input type="text"/> $\times 7 = 49$
<input type="text"/> $\times 3 = 21$	<input type="text"/> $\times 3 = 24$	<input type="text"/> $\times 6 = 48$

Γ. Γράψε το σωστό αποτέλεσμα μέσα στο κουτάκι.

$10 : 2 =$	<input type="text"/>	$30 : 5 =$	<input type="text"/>	$48 : 6 =$	<input type="text"/>
$24 : 8 =$	<input type="text"/>	$36 : 6 =$	<input type="text"/>	$54 : 9 =$	<input type="text"/>
$32 : 4 =$	<input type="text"/>	$42 : 6 =$	<input type="text"/>	$35 : 7 =$	<input type="text"/>
$70 : 10 =$	<input type="text"/>	$24 : 6 =$	<input type="text"/>	$45 : 9 =$	<input type="text"/>
$12 : 4 =$	<input type="text"/>	$27 : 3 =$	<input type="text"/>	$60 : 6 =$	<input type="text"/>
$21 : 3 =$	<input type="text"/>	$20 : 4 =$	<input type="text"/>	$18 : 6 =$	<input type="text"/>

Δ. Σχημάτισε τον αριθμό.

6	E	1	Δ	7	M	=	___	7	E	9	Δ	0	M	=	___
5	E	0	Δ	0	M	=	___	3	E	5	Δ	6	M	=	___
2	E	3	Δ	2	M	=	___	4	E	2	Δ	8	M	=	___
6	E	7	Δ	5	M	=	___	9	E	0	Δ	9	M	=	___



Ε. Κάνε τις παρακάτω πράξεις και γράψε το αποτέλεσμα μέσα στο κουτάκι.

$$\begin{array}{r} 48 \\ + 23 \\ \hline \end{array}$$

$$\begin{array}{r} 34 \\ + 16 \\ \hline \end{array}$$

$$\begin{array}{r} 67 \\ + 23 \\ \hline \end{array}$$

$$\begin{array}{r} 56 \\ + 45 \\ \hline \end{array}$$

$$\begin{array}{r} 44 \\ + 36 \\ \hline \end{array}$$

$$\begin{array}{r} 76 \\ + 17 \\ \hline \end{array}$$

$$\begin{array}{r} 43 \\ + 68 \\ \hline \end{array}$$

$$\begin{array}{r} 25 \\ + 39 \\ \hline \end{array}$$

$$\begin{array}{r} 274 \\ + 639 \\ \hline \end{array}$$

$$\begin{array}{r} 423 \\ + 389 \\ \hline \end{array}$$

$$\begin{array}{r} 327 \\ + 539 \\ \hline \end{array}$$

$$\begin{array}{r} 238 \\ + 375 \\ \hline \end{array}$$

$$\begin{array}{r} 798 \\ + 149 \\ \hline \end{array}$$

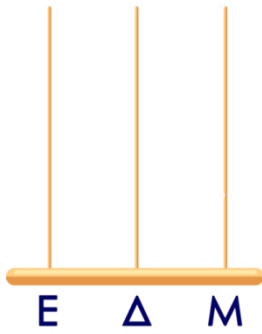
$$\begin{array}{r} 324 \\ + 416 \\ \hline \end{array}$$

$$\begin{array}{r} 238 \\ + 348 \\ \hline \end{array}$$


$$\begin{array}{r} 627 \\ + 243 \\ \hline \end{array}$$




Στ. Σχεδιάσε μέσα στον άβακα τον αριθμό που δείχνει το κουτάκι.



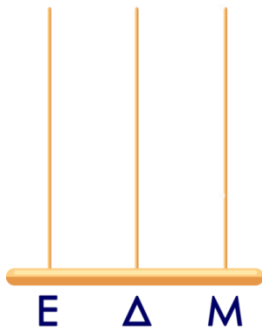
172




251




388




408




532



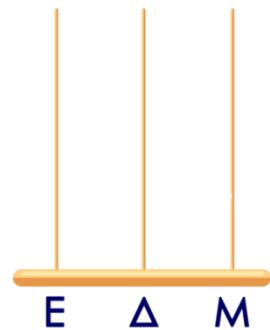
610



790



874



919

Βαθμολόγησε εσύ πρώτα τον εαυτό σου.



δούλεψα έξυπνα



ήταν εύκολο!



κουράστηκα πολύ



ήταν δύσκολο!