







A. Υπολόγισε τα διπλά αθροίσματα.

 +  =

 +  =

 +  =

 +  =

 +  =



B. Υπολόγισε τα παρακάτω αθροίσματα.

6 + 3 =

5 + 2 =

4 + 5 =

6 + 4 =

5 + 3 =

8 + 1 =

7 + 3 =

8 + 2 =

6 + 2 =

Γ. Συμπλήρωσε τον αριθμό που λείπει από την πράξη.

$4 + \underline{\quad} = 8$	$5 + \underline{\quad} = 10$	$4 + \underline{\quad} = 10$
$5 + \underline{\quad} = 8$	$7 + \underline{\quad} = 9$	$8 + \underline{\quad} = 10$
$3 + \underline{\quad} = 9$	$6 + \underline{\quad} = 8$	$1 + \underline{\quad} = 9$

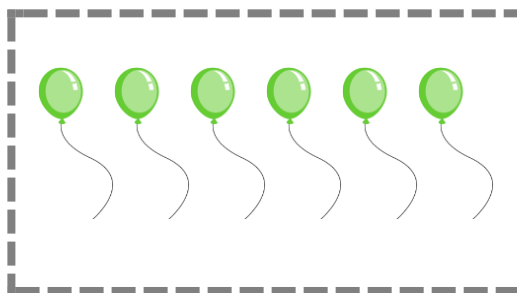

Δ. Στο πάρτι της Έλενας είχε 3 κόκκινα και 6 πράσινα μπαλόνια.

Πόσα μπαλόνια είχε συνολικά το πάρτι της Έλενας;

Είχε 3 κόκκινα
μπαλόνια

και 6 πράσινα μπαλόνια

Πόσα μπαλόνια
είχε συνολικά;



Λύση:

$$\boxed{\quad} + \boxed{\quad} = \boxed{\quad}$$

Απάντηση: _____

Ε. Υπολόγισε πόσα είναι όλα τα ευρώ.



Βαθμολόγησε εσύ πρώτα τον εαυτό σου.



δούλεψα έξυπνα



ήταν εύκολο!



κουράστηκα πολύ



ήταν δύσκολο!