

A. Γράψε τον αριθμό που είναι πριν και μετά από αυτόν που βλέπεις.

21
34
42
20
36

49
38
25
39
28

40
49
33
45
29

B. Υπολόγισε τις παρακάτω πράξεις.

$6 + 3 =$

$5 - 2 =$

$4 + 5 =$

$6 - 4 =$

$5 + 3 =$

$8 + 2 =$

$6 - 4 =$

$5 + 3 =$

$8 + 2 =$

$6 - 4 =$

$5 + 3 =$

$8 + 2 =$

$7 - 2 =$

$5 + 2 =$

$6 + 2 =$

$7 - 2 =$

$5 + 2 =$

$6 + 2 =$

$8 - 5 =$

$5 - 1 =$

$4 + 2 =$

$8 - 5 =$

$5 - 1 =$

$4 + 2 =$

Γ. Συμπλήρωσε τον αριθμό που λείπει από την πράξη.


$10 - \underline{\quad} = 6$	$7 + \underline{\quad} = 10$	$6 + \underline{\quad} = 10$
$9 + \underline{\quad} = 10$	$8 - \underline{\quad} = 3$	$2 + \underline{\quad} = 10$
$10 - \underline{\quad} = 5$	$7 - \underline{\quad} = 4$	$9 - \underline{\quad} = 5$

Δ. Η Ελένη πήγε για ψώνια. Είχε μαζί της 10 ευρώ και έφερε ρέστα 2 ευρώ. Πόσο κόστισαν τα ψώνια;

Είχε μαζί της 10 ευρώ

Έφερε ρέστα 2 ευρώ

Πόσο έκαναν τα ψώνια της;



Λύση:

$$\boxed{\quad} - \boxed{\quad} = \boxed{\quad}$$



Απάντηση: _____

Ε. Ένα λαγός είχε 9 καρότα. Έφαγε τα 4. Πόσα καρότα του έμειναν;

Είχε 9 καρότα

Έφαγε τα 4 καρότα

Πόσα καρότα
του έμειναν;



Λύση:

$$\boxed{} - \boxed{} = \boxed{}$$

Απάντηση: _____

Στ. Κάνε τις παρακάτω πράξεις.

$$\begin{array}{r} 9 \\ - 3 \\ \hline \end{array}$$

$$\begin{array}{r} 8 \\ - 2 \\ \hline \end{array}$$

$$\begin{array}{r} 6 \\ - 4 \\ \hline \end{array}$$

$$\begin{array}{r} 8 \\ - 3 \\ \hline \end{array}$$

$$\begin{array}{r} 10 \\ - 2 \\ \hline \end{array}$$

Βαθμολόγησε εσύ πρώτα τον εαυτό σου.



δούλεψα έξυπνα



ήταν εύκολο!



κουράστηκα πολύ



ήταν δύσκολο!