

Όνομα: \_\_\_\_\_

# ΓΝΩΡΙΖΟ ΤΑ ΚΕΡΜΑΤΑ ΤΟΥ ΕΥΡΩ

Μέτρησε τα κέρματα και γράψε το ποσό που "κρύβει" ο κουμπαράς.



€ \_\_\_\_\_




€ \_\_\_\_\_



€ \_\_\_\_\_



€ \_\_\_\_\_



€ \_\_\_\_\_



€ \_\_\_\_\_


Όνομα: \_\_\_\_\_

# ΓΝΩΡΙΖΟ ΤΑ ΚΕΡΜΑΤΑ ΤΟΥ ΕΥΡΩ

Μέτρησε τα κέρματα και γράψε το ποσό που "κρύβει" ο κουμπαράς.



€ \_\_\_\_\_



€ \_\_\_\_\_



€ \_\_\_\_\_



€ \_\_\_\_\_



€ \_\_\_\_\_



€ \_\_\_\_\_

Όνομα: \_\_\_\_\_

# ΓΝΩΡΙΖΟ ΤΑ ΚΕΡΜΑΤΑ ΤΟΥ ΕΥΡΩ

Μέτρησε τα κέρματα και γράψε το ποσό που "κρύβει" ο κουμπαράς.



€ \_\_\_\_\_




€ \_\_\_\_\_




€ \_\_\_\_\_



€ \_\_\_\_\_



€ \_\_\_\_\_



€ \_\_\_\_\_

Όνομα: \_\_\_\_\_

# ΓΝΩΡΙΖΟ ΤΑ ΚΕΡΜΑΤΑ ΤΟΥ ΕΥΡΩ


Μέτρησε τα κέρματα και γράψε το ποσό που "κρύβει" ο κουμπαράς.



€ \_\_\_\_\_



€ \_\_\_\_\_



€ \_\_\_\_\_



€ \_\_\_\_\_



€ \_\_\_\_\_



€ \_\_\_\_\_