


ΟΝΟΜΑ:

ΗΜΕΡΟΜΗΝΙΑ:


ΒΑΘΜΟΣ: ΠΑΡΑΤΗΡΗΣΕΙΣ:

<https://www.i-learn.gr>


A. Σχεδιάσε στους άβακες τους παρακάτω αριθμούς.




76




90




58



69



84



45

B. Υπολόγισε τις παρακάτω πράξεις.

$50 + 40 = \underline{\quad}$

$50 + 30 = \underline{\quad}$

$20 + 60 = \underline{\quad}$

$20 + 40 = \underline{\quad}$

$40 + 40 = \underline{\quad}$

$50 + 50 = \underline{\quad}$

$10 + 25 + 20 = \underline{\quad}$

$10 + 20 + 5 = \underline{\quad}$

$30 + 35 + 20 = \underline{\quad}$

$10 + 45 + 20 = \underline{\quad}$

$30 + 30 + 5 = \underline{\quad}$

$30 + 30 + 5 = \underline{\quad}$

Γ. Συμπλήρωσε τον αριθμό που λείπει από την πράξη.

$40 + \underline{\quad} = 70$

$40 + \underline{\quad} = 90$

$60 + \underline{\quad} = 90$

$20 + \underline{\quad} = 70$

$30 + \underline{\quad} = 60$

$20 + \underline{\quad} = 80$

$10 + \underline{\quad} = 50$

$30 + \underline{\quad} = 40$

$20 + \underline{\quad} = 50$

Δ. Κύκλωσε το σωστό σύμβολο ανισότητας ανάμεσα στους αριθμούς.

| | | | | | | | | | | | |
|------|-----|------|------|-----|------|------|-----|------|------|-----|------|
| 56 | $>$ | 78 | 65 | $>$ | 35 | 98 | $>$ | 81 | 45 | $>$ | 45 |
| | $=$ | | | $=$ | | | $=$ | | | $=$ | |
| | $<$ | | | $<$ | | | $<$ | | | $<$ | |

| | | | | | | | | | | | |
|------|-----|------|------|-----|------|------|-----|------|------|-----|------|
| 67 | $>$ | 73 | 50 | $>$ | 49 | 99 | $>$ | 19 | 30 | $>$ | 39 |
| | $=$ | | | $=$ | | | $=$ | | | $=$ | |
| | $<$ | | | $<$ | | | $<$ | | | $<$ | |



Ε. Κύκλωσε το μισό τον αριθμών.

το μισό
του **2**

1
2
4

το μισό
του **8**

4
5
6

το μισό
του **4**

2
3
4

το μισό
του **10**

4
5
6

το μισό
του **6**

2
3
4

το μισό
του **20**

5
10
15

ΣΤ. Κάνε τις παρακάτω πράξεις.

$23 + 5 = \underline{\quad}$

$78 + 4 = \underline{\quad}$

$98 - 5 = \underline{\quad}$

$42 + 6 = \underline{\quad}$

$53 + 8 = \underline{\quad}$

$67 - 5 = \underline{\quad}$

$23 + 6 = \underline{\quad}$

$72 + 7 = \underline{\quad}$

$89 - 4 = \underline{\quad}$

$65 + 4 = \underline{\quad}$

$85 - 4 = \underline{\quad}$

$37 - 6 = \underline{\quad}$

$47 + 5 = \underline{\quad}$

$92 - 2 = \underline{\quad}$

$53 - 2 = \underline{\quad}$

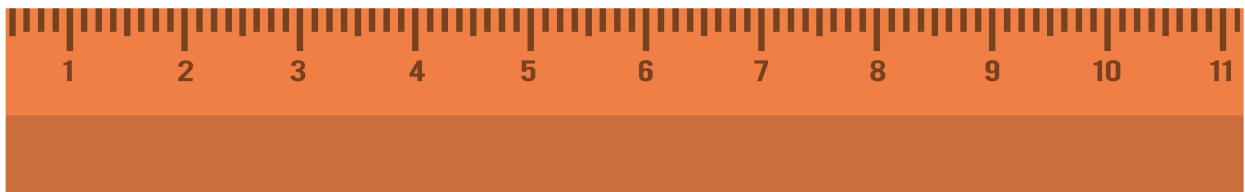
$68 + 9 = \underline{\quad}$

$99 - 4 = \underline{\quad}$

$68 - 7 = \underline{\quad}$



Ζ. Παρατήρησε τα παρακάτω αντικείμενα και συμπλήρωσε τα εκατοστά που έχουν.



Βαθμολόγησε εσύ πρώτα τον εαυτό σου.



δούλεψα
έξυπνα



ήταν
εύκολο!



κουράστηκα
πολύ



ήταν
δύσκολο!