

ΟΝΟΜΑ:

ΗΜΕΡΟΜΗΝΙΑ:

ΒΑΘΜΟΣ: ΠΑΡΑΤΗΡΗΣΕΙΣ:

<https://www.i-learn.gr>


A. Απάντησε στις παρακάτω ερωτήσεις.

1. Τι γνωρίζεις για το διάταγμα των Μεδιολάνων;

.....
.....
.....
.....
.....

2. Τι γνωρίζεις για τον ιππόδρομο και του Δήμους;

.....
.....
.....
.....
.....



B. Κύκλωσε τη σωστή απάντηση.

1. Η περίοδος ακμής της ρωμαϊκής αυτοκρατορίας κράτησε περίπου:

ένα αιώνα

δυο αιώνες

τρεις αιώνες

μισό αιώνα

2. Με ποιο σύστημα προσπάθησε ο Διοκλητιανός να αντιμετωπίσει τα προβλήματα;

Με το σύστημα της τετραρχίας

Με το χώνισμα σε περιφέρειες

Με το σύστημα της τριαρχίας

Με το χώνισμα σε δήμους

3. Πότε πέθανε ο Κωνσταντίνος;

Το 317 μ.Χ.

Το 337 π.Χ.

Το 337 μ.Χ.

Το 324 π.Χ.

4. Ποιος συνέχισε το έργο του Κωνσταντίνου;

Η μητέρα του Ελένη

Ο Λικίνιος

Ο Γαλέριος

Ο Κωνσταντιος

5. Ο Ιουλιανός κυβέρνησε την περίοδο:

361-364μ.Χ.(3 χρόνια)

361-365μ.Χ.(2 χρόνια)

361-365μ.Χ.(4 χρόνια)

361-363μ.Χ.(2 χρόνια)

6. Μετά τον Ιουλιανό, αυτοκράτορας έγινε ο:

Κωνσταντιος

Θεοδόσιος

Ιουλιανός

Γρηγόριος, ο Νανζιαζηνός

7. Η Βυζαντινή αυτοκρατορία έμεινε ενωμένη έως:

τα τέλη του 1ου μ.Χ. αιώνα

τα τέλη του 3ου μ.Χ. αιώνα

τα τέλη του 2ου μ.Χ. αιώνα

τα τέλη του 4ου μ.Χ. αιώνα

8. Το σημαντικότερο από τα έργα του Κωνσταντίνου στη νέα πρωτεύουσα ήταν:

η μεγάλη αγορά

Το ιερό παλάτι

Οι Δήμοι

Ο ιππόδρομος

9. Προέκταση των χώρων του παλατιού και φυσική συνέχεια του ήταν:

Η μεγάλη αγορά

Το ιερό παλάτι

Οι Δήμοι

Ο ιππόδρομος

10. Την οργάνωση των ιπποδρομιών είχαν αναλάβει:

Μόνο ο αυτοκράτορας

Οι Δήμοι και ο αυτοκράτορας

Οι Δήμοι

Τα αθλητικά σωματεία

11. Η Κωνσταντινούπολη επειδή ήταν χτισμένη στις πλαγιές επτά λόφων, πολλοί τη φώναζαν:

«Εφτάπολη»

«Πλαγιούπολη»

«Πεντάλοφη»

«Επτάλοφη»

12. Σε ποιο χώρο συναντιόντουσαν καθημερινά οι άνθρωποι;

Στις τοξωτές στοές

Στις υπαίθριες αγορές

Στις πλατείες και τις αγορές

Στις παραλίες

13. Ποιος ήταν ο μεγαλύτερος δρόμος που διέσχιζε την Πόλη;

Η Μέση λεωφόρος

Η Κλειστή λεωφόρος

Η Κεντρική λεωφόρος

Η Μεγάλη λεωφόρος

14. Τι υπήρχε δεξιά και αριστερά της Μέσης λεωφόρου;

Οι τοξωτές στοές

Οι υπαίθριες αγορές

Οι πλατείες και οι αγορές

Οι παραλίες

15. Εκτός από τις σταθερές αγορές υπήρχαν και :

Οι τοξωτές στοές

Οι υπαίθριες αγορές

Οι πλατείες και οι αγορές

Οι παραλίες

16. Σε ποια ηλικία πήγαιναν σχολείο τα παιδιά;

4-6 ετών

6-8 ετών

6-9 ετών

6-10 ετών

17. Το βασικό σχολείο είχε _____ τάξεις.

τέσσερις

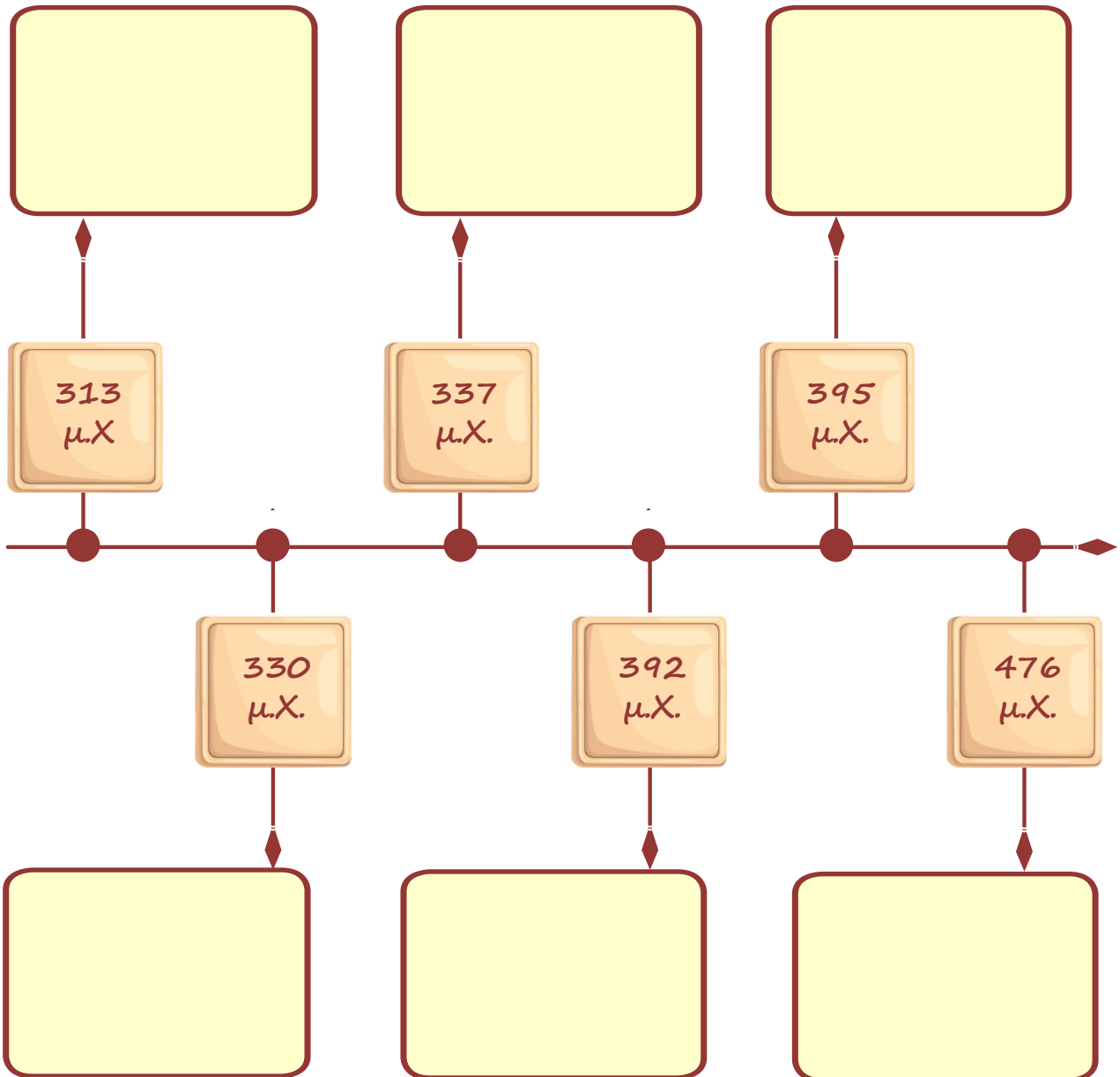
έξι

πέντε

οχτώ

Γ. Συμπλήρωσε τα γεγονότα στην παρακάτω αριθμογραμμή.

Υπογράφεται το διάταγμα της ανεξιθρησκείας	Το ρωμαϊκό κράτος χωρίζεται σε ανατολικό και δυτικό τμήμα
Διάλυση του δυτικού ρωμαϊκού κράτους	Γίνονται τα εγκαίνια της Κωνσταντινούπολης
Θάνατος του Κωνσταντίνου	Κατάργηση των Ολυμπιακών αγώνων



Δ. Γράψε μέσα στο κουτάκι αν η πρόταση είναι **Σωστή ή **Λάθος**.**

1. Η περίοδος ακμής της ρωμαϊκής αυτοκρατορίας κράτησε περίπου δυο αιώνες.

2. Ο αυτοκράτορας Κωνσταντίνος εφάρμοσε το σύστημα της τετραρχίας.

3. Ο Κωνσταντίνος μετέφερε την πρωτεύουσα στο Βυζάντιο, μια αρχαία ελληνική αποικία στην Προποντίδα.

4. Το επίσημο όνομα της νέας πρωτεύουσας ήταν Κωνσταντινούπολη.

5. Η εκπαίδευση των παιδιών στο Βυζάντιο ήταν υποχρεωτική για τα αγόρια και τα κορίτσια.

6. Τα κορίτσια δεν πήγαιναν σχολείο.

7. Τα αγόρια από άπορες οικογένειες μάθαιναν κάποια τέχνη δίπλα σε τεχνίτες και εργαζόντουσαν από μικρή ηλικία.

8. Επειδή η Κωνσταντινούπολη ήταν χτισμένη στις πλαγιές επτά λόφων, για αυτό πολλοί την έλεγαν και «Επτάλοφη».

9. Η θεμελίωση της νέας Πόλης έγινε από τον αυτοκράτορα τον Ιανουάριο του 330 μ.Χ. και τα εγκαίνια της το 334 μ.Χ.


Βαθμολόγησε εσύ πρώτα τον εαυτό σου.



δούλεψα
έξυπνα



ήταν
εύκολο!



κουράστηκα
πολύ



ήταν
δύσκολο!