

ΟΝΟΜΑ:

ΗΜΕΡΟΜΗΝΙΑ:

ΒΑΘΜΟΣ: ΠΑΡΑΤΗΡΗΣΕΙΣ:

<https://www.i-learn.gr>

A. Διάβασε και κύκλωσε τα σωστά.

						
3	4	5	6	7	8	9

- | | | |
|--------------------------------|---------|---------|
| 1. Στις 4 του μήνα είναι ημέρα | Δευτέρα | Τρίτη |
| 2. Στις 9 του μήνα είναι ημέρα | Κυριακή | Σάββατο |
| 4. Στις 5 του μήνα είναι ημέρα | Τρίτη | Τετάρτη |
| 5. Στις 3 του μήνα είναι ημέρα | Δευτέρα | Τρίτη |
| 6. Στις 6 του μήνα είναι ημέρα | Τετάρτη | Πέμπτη |
| 7. Στις 8 του μήνα είναι ημέρα | Σάββατο | Κυριακή |

B. Παρατήρησε τις εικόνες και κύκλωσε το κουτάκι με τη σωστή εποχή.



- | | |
|-----------|-----------|
| άνοιξη | καλοκαίρι |
| φθινόπωρο | χειμώνας |



- | | |
|-----------|-----------|
| άνοιξη | καλοκαίρι |
| φθινόπωρο | χειμώνας |



άνοιξη

καλοκαίρι

φθινόπωρο

χειμώνας



άνοιξη


καλοκαίρι

φθινόπωρο


χειμώνας

Γ. Ο Αντώνης μάζεψε 8 πορτοκάλια από τον κήπο του και 6 μήλα. Πόσα φρούτα μάζεψε συνολικά;

Μάζεψε
8 πορτοκάλια



και 6 μήλα



Πόσα φρούτα μάζεψε
συνολικά;



✓ Γράψε τη σωστή πράξη μέσα στο κουτάκι.

$$\left(\quad \right) + \left(\quad \right) = \left(\quad \right) \quad \left(\quad \right) - \left(\quad \right) = \left(\quad \right)$$


✓ Άρα ο Αντώνης μάζεψε _____ φρούτα.

Δ. Η μητέρα έφτιαξε 9 cupcakes για τα παιδιά. Επειδή όμως ξέρεi πως αρέσουν πολύ στα παιδιά έφτιαξε άλλα 6. Πόσα cupcakes έφτιαξε συνολικά;

Έφτιαξε 9
cupcakes



Μετά έφτιαξε
άλλα 6



Πόσα cupcakes
έφτιαξε συνολικά
η μητέρα;



✓ Γράψε τη σωστή πράξη μέσα στο κουτάκι.

$$[\quad] + [\quad] = [\quad] \quad [\quad] - [\quad] = [\quad]$$

✓ Άρα η μητέρα έφτιαξε _____ cupcakes.



Ε. Υπολόγισε και γράψε το σωστό αποτέλεσμα.

$6 + 8 = \underline{\quad}$

$6 + 7 = \underline{\quad}$

$9 + 7 = \underline{\quad}$

$6 + 9 = \underline{\quad}$

$7 + 7 = \underline{\quad}$

$8 + 8 = \underline{\quad}$

$5 + 8 = \underline{\quad}$

$7 + 8 = \underline{\quad}$

$9 + 5 = \underline{\quad}$

$9 + 4 = \underline{\quad}$

ΣΤ. Υπολόγισε όπως το παράδειγμα.

$9 + 5 = \underline{\quad}$

$8 + 3 = \underline{\quad}$

$9 + 3 = \underline{\quad}$

$9 + 1 + 4 = \underline{\quad}$

$\underline{\quad} + \underline{\quad} + \underline{\quad} = \underline{\quad}$

$\underline{\quad} + \underline{\quad} + \underline{\quad} = \underline{\quad}$

$10 + 4 = 14$

$\underline{\quad} + \underline{\quad} = \underline{\quad}$

$\underline{\quad} + \underline{\quad} = \underline{\quad}$

$9 + 6 = \underline{\quad}$

$6 + 7 = \underline{\quad}$

$9 + 7 = \underline{\quad}$

$\underline{\quad} + \underline{\quad} + \underline{\quad} = \underline{\quad}$

$\underline{\quad} + \underline{\quad} + \underline{\quad} = \underline{\quad}$

$\underline{\quad} + \underline{\quad} + \underline{\quad} = \underline{\quad}$

$\underline{\quad} + \underline{\quad} = \underline{\quad}$

$\underline{\quad} + \underline{\quad} = \underline{\quad}$

$\underline{\quad} + \underline{\quad} = \underline{\quad}$

$9 + 9 = \underline{\quad}$

$8 + 5 = \underline{\quad}$

$8 + 6 = \underline{\quad}$

$\underline{\quad} + \underline{\quad} + \underline{\quad} = \underline{\quad}$

$\underline{\quad} + \underline{\quad} + \underline{\quad} = \underline{\quad}$

$\underline{\quad} + \underline{\quad} + \underline{\quad} = \underline{\quad}$

$\underline{\quad} + \underline{\quad} = \underline{\quad}$

$\underline{\quad} + \underline{\quad} = \underline{\quad}$

$\underline{\quad} + \underline{\quad} = \underline{\quad}$

Βαθμολόγησε εσύ πρώτα τον εαυτό σου.



δούλεψα
έξυπνα



ήταν
εύκολο!



κουράστηκα
πολύ



ήταν
δύσκολο!