

ΟΝΟΜΑ:

ΗΜΕΡΟΜΗΝΙΑ:

ΒΑΘΜΟΣ: ΠΑΡΑΤΗΡΗΣΕΙΣ:

<https://www.i-learn.gr>

A. Να κάνεις τις παρακάτω πράξεις.

$$\begin{array}{r} 10 \\ + 20 \\ \hline \end{array}$$

$$\begin{array}{r} 20 \\ + 20 \\ \hline \end{array}$$

$$\begin{array}{r} 30 \\ + 10 \\ \hline \end{array}$$

$$\begin{array}{r} 40 \\ + 10 \\ \hline \end{array}$$

$$\begin{array}{r} 40 \\ + 20 \\ \hline \end{array}$$

$$\begin{array}{r} 30 \\ + 20 \\ \hline \end{array}$$

$$\begin{array}{r} 50 \\ + 10 \\ \hline \end{array}$$

$$\begin{array}{r} 60 \\ + 10 \\ \hline \end{array}$$

$$\begin{array}{r} 50 \\ + 20 \\ \hline \end{array}$$

$$\begin{array}{r} 40 \\ + 30 \\ \hline \end{array}$$

$$\begin{array}{r} 45 \\ + 24 \\ \hline \end{array}$$

$$\begin{array}{r} 23 \\ + 26 \\ \hline \end{array}$$

$$\begin{array}{r} 32 \\ + 24 \\ \hline \end{array}$$

$$\begin{array}{r} 41 \\ + 18 \\ \hline \end{array}$$

$$\begin{array}{r} 28 \\ + 21 \\ \hline \end{array}$$

$$\begin{array}{r} 50 \\ - 10 \\ \hline \end{array}$$

$$\begin{array}{r} 50 \\ - 20 \\ \hline \end{array}$$

$$\begin{array}{r} 40 \\ - 20 \\ \hline \end{array}$$

$$\begin{array}{r} 70 \\ - 20 \\ \hline \end{array}$$

$$\begin{array}{r} 70 \\ - 10 \\ \hline \end{array}$$

$$\begin{array}{r} 60 \\ - 30 \\ \hline \end{array}$$

$$\begin{array}{r} 70 \\ - 30 \\ \hline \end{array}$$

$$\begin{array}{r} 56 \\ - 32 \\ \hline \end{array}$$

$$\begin{array}{r} 48 \\ - 12 \\ \hline \end{array}$$

$$\begin{array}{r} 36 \\ - 14 \\ \hline \end{array}$$

$$\begin{array}{r} 47 \\ - 21 \\ \hline \end{array}$$

$$\begin{array}{r} 54 \\ - 21 \\ \hline \end{array}$$

$$\begin{array}{r} 66 \\ - 24 \\ \hline \end{array}$$

$$\begin{array}{r} 55 \\ - 13 \\ \hline \end{array}$$

$$\begin{array}{r} 47 \\ - 32 \\ \hline \end{array}$$

$$\begin{array}{r} 44 \\ + 15 \\ \hline \end{array}$$

$$\begin{array}{r} 33 \\ + 34 \\ \hline \end{array}$$


$$\begin{array}{r} 12 \\ + 23 \\ \hline \end{array}$$

$$\begin{array}{r} 14 \\ + 35 \\ \hline \end{array}$$


$$\begin{array}{r} 31 \\ + 16 \\ \hline \end{array}$$

Β. Μια καραμέλα κοστίζει 5 λεπτά. Πόσο κοστίζουν οι τέσσερις καραμέλες;

Η 1 καραμέλα κοστίζει 5 λεπτά




Πόσο κοστίζουν οι 4 καραμέλες;



Απάντηση: _____

Γ. Πόσα πόδια έχουν τα 5 παιδιά;

Το 1 παιδί έχει 2 πόδια



Πόσα πόδια έχουν τα 5 παιδιά;



Απάντηση: _____



Δ. Ένα γλειφιτζούρι κοστίζει 10 λεπτά. Πόσο κοστίζουν τα 3 γλειφιτζούρια;

το 1 γλειφιτζούρι
κοστίζει 10 λεπτά



Πόσο κοστίζουν τα 3
γλειφιτζούρια;




Απάντηση: _____

Ε. Κύκλωσε το κουτάκι που δείχνει τα σωστά κέρματα για να αγοράσεις το αντικείμενο της εικόνας.




68 λεπτά




70 λεπτά





43 λεπτά




56 λεπτά



61 λεπτά



Στ. Παρατήρησε τις εικόνες και κύκλωσε το σωστό κουτάκι που δείχνει αν η εικόνα είναι συμμετρική ή όχι.



είναι συμμετρική

δεν είναι συμμετρική



είναι συμμετρική

δεν είναι συμμετρική



είναι συμμετρική

δεν είναι συμμετρική



είναι συμμετρική

δεν είναι συμμετρική



είναι συμμετρική

δεν είναι συμμετρική



είναι συμμετρική

δεν είναι συμμετρική



είναι συμμετρική

δεν είναι συμμετρική



είναι συμμετρική

δεν είναι συμμετρική

Ζ. Κύκλωσε το σωστό κουτάκι.

1. 3 φορές το 2 μας κάνει:

6

8

10

2. 4 φορές το 5 μας κάνει:

15

20

25

3. 4 φορές το 10 μας κάνει:

20

30

40

4. 5 φορές το 5 μας κάνει:

15

20

25

5. 2 φορές το 5 μας κάνει:

6

8

10

6. 3 φορές το 10 μας κάνει:

20

30

40

7. 4 φορές το 2 μας κάνει:

6

8

10

8. 3 φορές το 5 μας κάνει:

15

20

25

9. 6 φορές το 2 μας κάνει:

10

12

14

10. 2 φορές το 2 μας κάνει:

2

4

6

Βαθμολόγησε εσύ πρώτα τον εαυτό σου.



δούλεψα
έξυπνα



ήταν
εύκολο!



κουράστηκα
πολύ



ήταν
δύσκολο!