

ΟΝΟΜΑ: .....

ΗΜΕΡΟΜΗΝΙΑ: .....

ΒΑΘΜΟΣ: ..... ΠΑΡΑΤΗΡΗΣΕΙΣ: .....

<https://www.i-learn.gr>

Α. Να κάνεις τις παρακάτω πράξεις.

$$\begin{array}{r} 35 \\ + 12 \\ \hline \end{array}$$

$$\begin{array}{r} 22 \\ + 14 \\ \hline \end{array}$$

$$\begin{array}{r} 22 \\ + 14 \\ \hline \end{array}$$

$$\begin{array}{r} 35 \\ + 10 \\ \hline \end{array}$$

$$\begin{array}{r} 77 \\ + 20 \\ \hline \end{array}$$

$$\begin{array}{r} 53 \\ + 30 \\ \hline \end{array}$$

$$\begin{array}{r} 58 \\ + 40 \\ \hline \end{array}$$

$$\begin{array}{r} 70 \\ + 20 \\ \hline \end{array}$$

$$\begin{array}{r} 46 \\ + 23 \\ \hline \end{array}$$

$$\begin{array}{r} 51 \\ + 18 \\ \hline \end{array}$$

$$\begin{array}{r} 80 \\ - 60 \\ \hline \end{array}$$

$$\begin{array}{r} 99 \\ - 40 \\ \hline \end{array}$$

$$\begin{array}{r} 86 \\ - 50 \\ \hline \end{array}$$

$$\begin{array}{r} 70 \\ - 10 \\ \hline \end{array}$$

$$\begin{array}{r} 57 \\ - 25 \\ \hline \end{array}$$

$$\begin{array}{r} 48 \\ - 14 \\ \hline \end{array}$$

$$\begin{array}{r} 48 \\ - 14 \\ \hline \end{array}$$

+

$$\begin{array}{r} 56 \\ - 15 \\ \hline \end{array}$$

$$\begin{array}{r} 78 \\ - 17 \\ \hline \end{array}$$

$$\begin{array}{r} 62 \\ - 20 \\ \hline \end{array}$$

Β. Μια καμηλοπάρδαλη τρώει 4 φύλλα την ημέρα. Πόσα φύλλα τρώει σε 3 ημέρες;

Μια  
καμηλοπάρδαλη



τρώει 4 φύλλα  
την ημέρα



Πόσα τρώει  
σε 3 ημέρες;



Απάντηση: \_\_\_\_\_

Γ. Η Κατερίνα μάζεψε από τον κήπο της 15 λουλούδια και θέλει να τα βάλει σε 3 βάζα. Πόσα λουλούδια θα βάλει σε κάθε βάζο;

Μάζεψε  
15 λουλούδια



θέλει να τα **μοιράσει**  
σε 3 βάζα



Πόσα λουλούδια θα  
βάλει σε κάθε βάζο;




Απάντηση: \_\_\_\_\_




Δ. Κύκλωσε το σωστό.


Ποιο είναι πιο βαρύ;



Ποιο είναι πιο βαρύ;




Ποιο είναι πιο ελαφρύ;



Ποιο είναι πιο ελαφρύ;



Ποιο είναι πιο βαρύ;



Ε. Συμπλήρωσε τον επόμενο αριθμό.

59 → \_\_\_\_

70 → \_\_\_\_

89 → \_\_\_\_

44 → \_\_\_\_

27 → \_\_\_\_

50 → \_\_\_\_

62 → \_\_\_\_

99 → \_\_\_\_

39 → \_\_\_\_

79 → \_\_\_\_

Στ. Συμπλήρωσε τον προηγούμενο αριθμό.

\_\_\_\_\_ ← 80

\_\_\_\_\_ ← 79

\_\_\_\_\_ ← 71

\_\_\_\_\_ ← 68

\_\_\_\_\_ ← 55

\_\_\_\_\_ ← 69

\_\_\_\_\_ ← 70

\_\_\_\_\_ ← 90

\_\_\_\_\_ ← 45

\_\_\_\_\_ ← 100

Ζ. Ένας φούρναρης έφτιαξε 8 ψωμιά από αλεύρι καλαμποκιού και 6 ψωμιά με αλεύρι ολικής άλεσης. Πόσα ψωμιά έφτιαξε συνολικά ο φούρναρης;



Απάντηση: \_\_\_\_\_

Βαθμολόγησε εσύ πρώτα τον εαυτό σου.



δούλεψα  
έξυπνα



ήταν  
εύκολο!



κουράστηκα  
πολύ



ήταν  
δύσκολο!