

ΟΝΟΜΑ:

ΗΜΕΡΟΜΗΝΙΑ:

ΒΑΘΜΟΣ: ΠΑΡΑΤΗΡΗΣΕΙΣ:

<https://www.i-learn.gr>


A. Κύκλωσε το σωστό αποτέλεσμα.

$2 \times 9 =$ 17 18 19	$8 \times 9 =$ 71 72 73	$0 \times 11 =$ 0 11 10	$3 \times 11 =$ 31 30 33
$9 \times 9 =$ 79 80 81	$3 \times 9 =$ 27 28 29	$10 \times 11 =$ 101 110 100	$5 \times 11 =$ 55 51 50
$4 \times 9 =$ 36 37 38	$6 \times 9 =$ 53 54 55	$8 \times 11 =$ 88 80 18	$7 \times 11 =$ 71 77 70
$7 \times 9 =$ 62 63 64	$5 \times 9 =$ 43 44 45	$9 \times 11 =$ 90 99 19	$6 \times 11 =$ 66 61 60

B. Κύκλωσε το σωστό αποτέλεσμα.

$21 : 7 =$ 2 3 4	$36 : 6 =$ 4 5 6	$54 : 9 =$ 4 5 6	$42 : 6 =$ 7 8 9
$72 : 8 =$ 7 8 9	$56 : 7 =$ 7 8 9	$24 : 6 =$ 3 4 5	$45 : 9 =$ 3 4 5
$50 : 5 =$ 10 9 8	$18 : 2 =$ 10 9 8	$27 : 9 =$ 2 3 4	$32 : 8 =$ 2 3 4
$16 : 4 =$ 2 3 4	$20 : 5 =$ 2 3 4	$40 : 8 =$ 3 4 5	$81 : 9 =$ 7 8 9

Γ. Παρατήρησε το παρακάτω σχήμα και μέτρησε πόσα τετράγωνα και τρίγωνα χρειαζόμαστε για να καλύψουμε την επιφάνειά του.



Υπολόγισε με πολλαπλασιασμό.

_____ x _____ = _____

Άρα χρειαζόμαστε _____ τετράγωνα.

Άρα χρειαζόμαστε _____ τρίγωνα.

Δ. Γράψε στα παρακάτω κουτάκια τους μήνες με τη σειρά.

1.

5.

9.

2.

6.

10.

3.

7.

11.





4.

8.

12.

Ε. Γράψε τις μέρες της εβδομάδας στα παρακάτω κουτάκια.

Στ. Παρατήρησε τις εικόνες και γράψε την εποχή μέσα στο κουτάκι.



Βαθμολόγησε εσύ πρώτα τον εαυτό σου.



δούλεψα
έξυπνα



ήταν
εύκολο!



κουράστηκα
πολύ



ήταν
δύσκολο!