

ΟΝΟΜΑ: .....

ΗΜΕΡΟΜΗΝΙΑ: .....

ΒΑΘΜΟΣ: ..... ΠΑΡΑΤΗΡΗΣΕΙΣ: .....

<https://www.i-learn.gr>

**A.** Διάβασε και γράψε τον αριθμό μέσα στο κουτάκι.

χίλια οχτακόσια σαράντα πέντε

δύο χιλιάδες πέντε

τρεις χιλιάδες εκατόν εξήντα εννιά

τέσσερις χιλιάδες οχτακόσια οχτώ

πέντε χιλιάδες ενενήντα έξι

έξι χιλιάδες εβδομήντα δυο

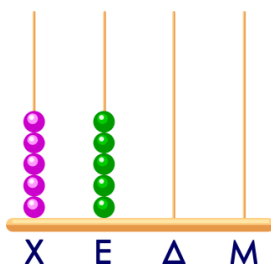
εφτά χιλιάδες πεντακόσια

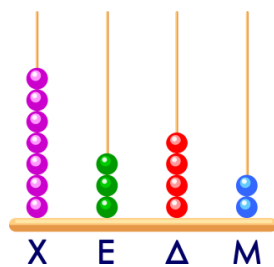
οχτώ χιλιάδες σαράντα οχτώ

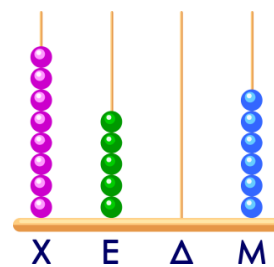
εννιά χιλιάδες εννιακόσια

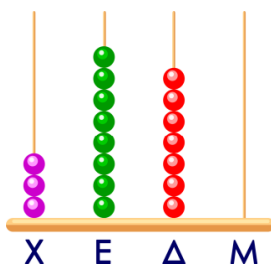
δέκα χιλιάδες

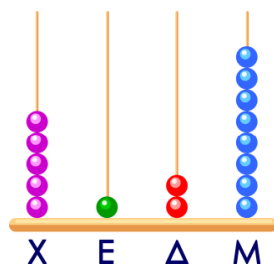
**B.** Παρατήρησε τους άβακες και γράψε τον αριθμό.

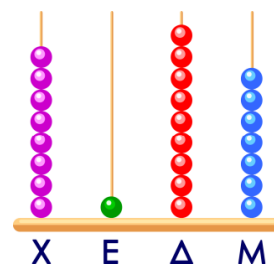




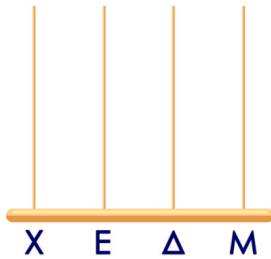










Γ. Σχεδιάσε μέσα στον άβακα τον αριθμό που δείχνει το κουτάκι.



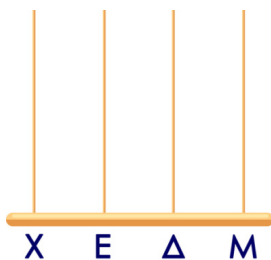
3.196




7.893




5.632



8954




8.996





9.058

Δ. Να σημειώσεις αν οι παρακάτω γραμμές είναι κάθετες ή παράλληλες.















Ε. Ένα κυλικείο έδωσε την Δευτέρα 123 τυρόπιτες, την Τρίτη 145 τυρόπιτες, την Τετάρτη 150 τυρόπιτες και την Παρασκευή 105 τυρόπιτες. Αν όλες οι τυρόπιτες που πούλησε ήταν 700, να συμπληρώσεις τον πίνακα και να βρεις πόσες τυρόπιτες πούλησε την Πέμπτη.

					
	<input type="text"/>	<input type="text"/>	<input type="text"/>	<input type="text"/>	<input type="text"/>

Κάνω αναλυτικά τις πράξεις:

<input type="text"/>	<input type="text"/>	<input type="text"/>	<input type="text"/>	<input type="text"/>
----------------------	----------------------	----------------------	----------------------	----------------------

Άρα την Πέμπτη πούλησε \_\_\_\_\_ τυρόπιτες.

Βαθμολόγησε εσύ πρώτα τον εαυτό σου.



δούλεψα  
έξυπνα



ήταν  
εύκολο!



κουράστηκα  
πολύ



ήταν  
δύσκολο!