

ΟΝΟΜΑ:

ΗΜΕΡΟΜΗΝΙΑ:

ΒΑΘΜΟΣ: ΠΑΡΑΤΗΡΗΣΕΙΣ:

<https://www.i-learn.gr>

A. Υπολόγισε τους παρακάτω πολλαπλασιασμούς και κύκλωσε το κουτάκι με το σωστό αποτέλεσμα.

$$\begin{array}{r} 93 \\ \times 6 \\ \hline \end{array}$$

667

558

546

$$\begin{array}{r} 87 \\ \times 5 \\ \hline \end{array}$$

424

405

435

$$\begin{array}{r} 49 \\ \times 7 \\ \hline \end{array}$$

340

343

349

$$\begin{array}{r} 58 \\ \times 9 \\ \hline \end{array}$$

522

531

585

$$\begin{array}{r} 73 \\ \times 4 \\ \hline \end{array}$$

299

292

302

$$\begin{array}{r} 89 \\ \times 3 \\ \hline \end{array}$$

273

296

267

B. Υπολόγισε τους παρακάτω πολλαπλασιασμούς και κύκλωσε το κουτάκι με το σωστό αποτέλεσμα.

$$\begin{array}{r} 45 \\ \times 37 \\ \hline \end{array}$$

+ X

1.773

1.596

1.665

$$\begin{array}{r} 39 \\ \times 56 \\ \hline \end{array}$$

+ X

2.100

2.184

2.196

$$\begin{array}{r} 82 \\ \times 24 \\ \hline \end{array}$$

+ X

1.968

1.869

1.689

$$\begin{array}{r} 76 \\ \times 43 \\ \hline \end{array}$$

+ X

3.208

3.251

3.268

Γ. Κάνε τις παρακάτω προσθέσεις μαζί με την επαλήθευσή τους.

$\begin{array}{r} 1.168 \\ + 1.357 \\ \hline \end{array}$ <div style="background-color: #d9ead3; width: 100px; height: 40px; margin-top: 5px;"></div>	<p>Επαλήθευση</p> <hr style="border: 0; border-top: 1px solid black; margin-bottom: 5px;"/> $\begin{array}{r} \\ - \\ \hline \end{array}$ <div style="background-color: #f4cccc; width: 100px; height: 40px; margin-top: 5px;"></div>
---	---

$\begin{array}{r} 1.283 \\ + 1.195 \\ \hline \end{array}$ <div style="background-color: #d9ead3; width: 100px; height: 40px; margin-top: 5px;"></div>	<p>Επαλήθευση</p> <hr style="border: 0; border-top: 1px solid black; margin-bottom: 5px;"/> $\begin{array}{r} \\ - \\ \hline \end{array}$ <div style="background-color: #f4cccc; width: 100px; height: 40px; margin-top: 5px;"></div>
---	---

$\begin{array}{r} 1.388 \\ + 1.146 \\ \hline \end{array}$ <div style="background-color: #d9ead3; width: 100px; height: 40px; margin-top: 5px;"></div>	<p>Επαλήθευση</p> <hr style="border: 0; border-top: 1px solid black; margin-bottom: 5px;"/> $\begin{array}{r} \\ - \\ \hline \end{array}$ <div style="background-color: #f4cccc; width: 100px; height: 40px; margin-top: 5px;"></div>
---	---

$\begin{array}{r} 1.268 \\ + 1.273 \\ \hline \end{array}$ <div style="background-color: #d9ead3; width: 100px; height: 40px; margin-top: 5px;"></div>	<p>Επαλήθευση</p> <hr style="border: 0; border-top: 1px solid black; margin-bottom: 5px;"/> $\begin{array}{r} \\ - \\ \hline \end{array}$ <div style="background-color: #f4cccc; width: 100px; height: 40px; margin-top: 5px;"></div>
---	---

Δ. Κάνε τις παρακάτω αφαιρέσεις μαζί με την επαλήθευσή τους.

$\begin{array}{r} 2.853 \\ - 1.678 \\ \hline \end{array}$ <div style="background-color: #f4cccc; width: 100px; height: 40px; margin-top: 5px;"></div>	<p>Επαλήθευση</p> <hr style="border: 0; border-top: 1px solid black; margin-bottom: 5px;"/> $\begin{array}{r} \\ + \\ \hline \end{array}$ <div style="background-color: #d9ead3; width: 100px; height: 40px; margin-top: 5px;"></div>
---	---

$\begin{array}{r} 2.935 \\ - 1.588 \\ \hline \end{array}$ <div style="background-color: #f4cccc; width: 100px; height: 40px; margin-top: 5px;"></div>	<p>Επαλήθευση</p> <hr style="border: 0; border-top: 1px solid black; margin-bottom: 5px;"/> $\begin{array}{r} \\ + \\ \hline \end{array}$ <div style="background-color: #d9ead3; width: 100px; height: 40px; margin-top: 5px;"></div>
---	---

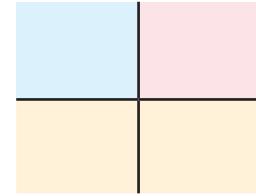
$\begin{array}{r} 2.765 \\ - 1.394 \\ \hline \end{array}$ <div style="background-color: #f4cccc; width: 100px; height: 40px; margin-top: 5px;"></div>	<p>Επαλήθευση</p> <hr style="border: 0; border-top: 1px solid black; margin-bottom: 5px;"/> $\begin{array}{r} \\ + \\ \hline \end{array}$ <div style="background-color: #d9ead3; width: 100px; height: 40px; margin-top: 5px;"></div>
---	---

$\begin{array}{r} 2.826 \\ - 1.459 \\ \hline \end{array}$ <div style="background-color: #f4cccc; width: 100px; height: 40px; margin-top: 5px;"></div>	<p>Επαλήθευση</p> <hr style="border: 0; border-top: 1px solid black; margin-bottom: 5px;"/> $\begin{array}{r} \\ + \\ \hline \end{array}$ <div style="background-color: #d9ead3; width: 100px; height: 40px; margin-top: 5px;"></div>
---	---

Ε. Κάνε τους παρακάτω πολλαπλασιασμούς με τις δοκιμές τους.


$$\begin{array}{r} 186 \\ \times 3 \\ \hline \end{array}$$

$$\begin{array}{l} \underline{\quad} + \underline{\quad} = \\ \underline{\quad} + \underline{\quad} = \\ \underline{\quad} + \underline{\quad} = \end{array}$$




$$\begin{array}{r} 154 \\ \times 4 \\ \hline \end{array}$$

$$\begin{array}{l} \underline{\quad} + \underline{\quad} = \\ \underline{\quad} + \underline{\quad} = \\ \underline{\quad} + \underline{\quad} = \end{array}$$




$$\begin{array}{r} 46 \\ \times 38 \\ \hline \\ + \quad \quad \times \\ \hline \end{array}$$

$$\begin{array}{l} \underline{\quad} + \underline{\quad} = \\ \underline{\quad} + \underline{\quad} = \\ \underline{\quad} + \underline{\quad} = \end{array}$$



$$\begin{array}{r} 97 \\ \times 35 \\ \hline \\ + \quad \quad \times \\ \hline \end{array}$$

$$\begin{array}{l} \underline{\quad} + \underline{\quad} = \\ \underline{\quad} + \underline{\quad} = \\ \underline{\quad} + \underline{\quad} = \end{array}$$



ΣΤ1. Ένα φροντιστήριο αγόρασε 6 τσάντες που η καθεμιά κόστιζε 134 ευρώ. Πόσο πλήρωσε για όλες τις τσάντες;



Απάντηση: _____

ΣΤ2. Το φροντιστήριο αγόρασε επίσης 56 κουτιά βετ ζωγραφικής που το καθένα είχε μέσα 18 μαρκαδόρους. Πόσους μαρκαδόρους αγόρασε συνολικά;



Απάντηση: _____

Ζ. Για ένα κέικ σοκολάτας χρησιμοποιήσαμε 8 αυγά. Πόσα αυγά χρειαζόμαστε για 15 κέικ;



Απάντηση: _____

Η. Η Αναστασία αγόρασε 16 συσκευασίες γλειφιτζούρια. Η κάθε συσκευασία είχε μέσα 6 γλειφιτζούρια. Πόσα γλειφιτζούρια αγόρασε συνολικά;



Απάντηση: _____

Θ. Υπολόγισε τις παρακάτω πράξεις.

$$\begin{array}{r} 1.836 \\ + 1.179 \\ \hline \end{array}$$

$$\begin{array}{r} 2.248 \\ + 589 \\ \hline \end{array}$$

$$\begin{array}{r} 2.000 \\ - 874 \\ \hline \end{array}$$

$$\begin{array}{r} 2.587 \\ + 393 \\ \hline \end{array}$$

$$\begin{array}{r} 2.987 \\ - 1.553 \\ \hline \end{array}$$

$$\begin{array}{r} 2.345 \\ - 1.598 \\ \hline \end{array}$$

Βαθμολόγησε εσύ πρώτα τον εαυτό σου.



δούλεψα
έξυπνα



ήταν
εύκολο!



κουράστηκα
πολύ



ήταν
δύσκολο!