

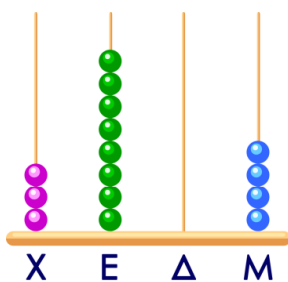
ΟΝΟΜΑ:

ΗΜΕΡΟΜΗΝΙΑ:

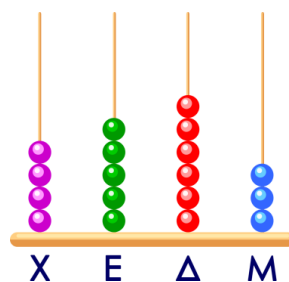
ΒΑΘΜΟΣ: ΠΑΡΑΤΗΡΗΣΕΙΣ:

<https://www.i-learn.gr>

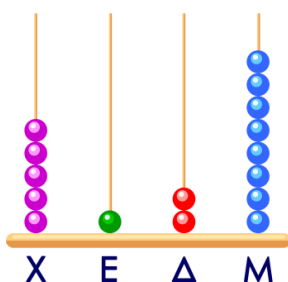
A. Παρατήρησε τους άβακες και κύκλωσε τον σωστό αριθμό.



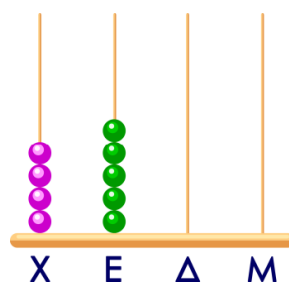
- 3.905
- 3.804
- 3.904



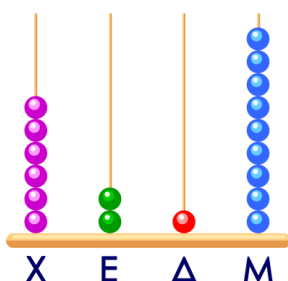
- 4.553
- 4.663
- 4.563



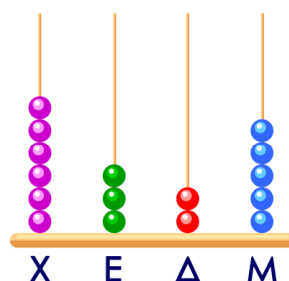
- 5.128
- 6.129
- 1.227



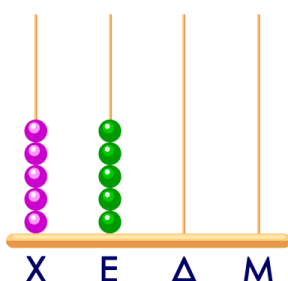
- 4.500
- 5.400
- 5.500



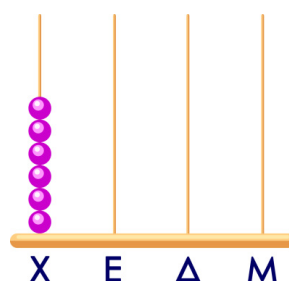
- 6.218
- 6.217
- 6.219



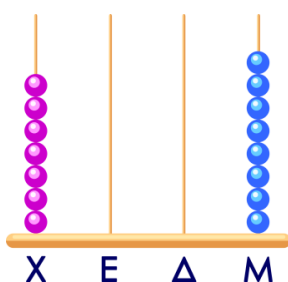
- 6.235
- 6.325
- 6.332



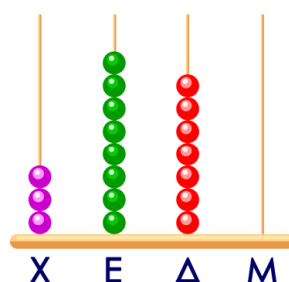
- 5.500
- 4.400
- 6.600



- 5.000
- 7.000
- 6.000

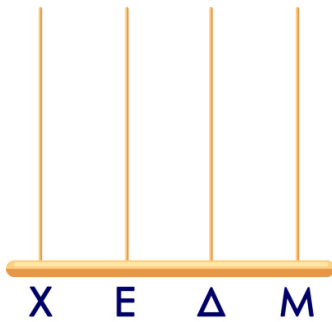


- 6.009
- 7.008
- 7.007




- 3.870
- 3.980
- 3.970

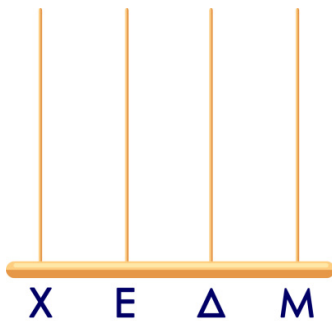
B. Σχεδιάσε μέσα στον άβακα τον αριθμό που δείχνει το κουτάκι.




6.457



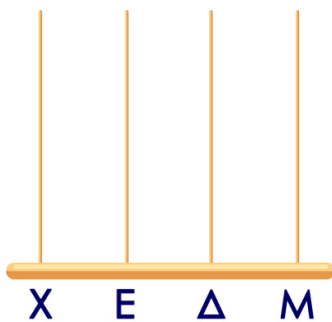
5.006




6.999



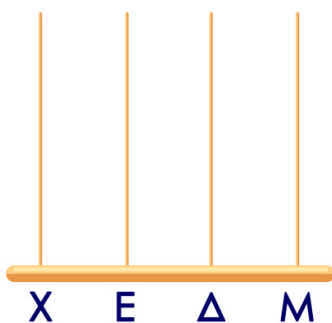
6.234




5.897



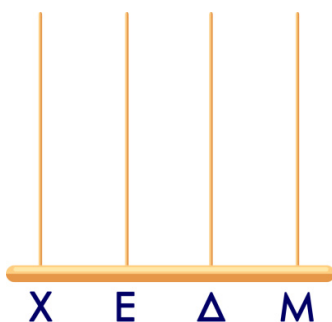
7.000




4.788



6.900



4.094



5.871

Γ. Κύκλωσε τον προηγούμενο αριθμό.

6.252	6.452	6.351	←	6.352
4.711	4.709	4.700	←	4.710
4.989	4.988	4.990	←	4.987
1.568	1.567	1.566	←	1.569
6.399	6.401	6.390	←	6.400
6.989	6.900	6.999	←	7.000
4.025	4.026	4.024	←	4.027
3.853	3.855	3.845	←	3.854



Δ. Κύκλωσε τον επόμενο αριθμό.



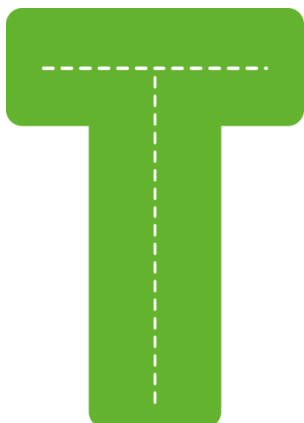



5.734	→	5.735	5.733	5.732
4.981	→	4.980	4.982	4.984
3.763	→	3.765	3.766	3.764
6.174	→	6.175	6.177	6.074
6.950	→	6.951	6.952	6.949
5.009	→	5.008	5.010	5.011
4.080	→	4.084	4.082	4.081
3.216	→	3.215	3.217	3.218

Ε. Τα παρακάτω κιβώτια έχουν ένα αριθμό πάνω τους. Να βάλεις τα κιβώτια με τη σειρά ξεκινώντας από τον μικρότερο αριθμό.

5.874 κιλά 5.704 κιλά 5.994 κιλά 5.545 κιλά

□ < □ < □ < □

ΣΤ. Να χαράξεις τον άξονα συμμετρίας στα παρακάτω γράμματα.



Ζ. Κύκλωσε το σωστό.

8 κιλά	=	80	800	8.000	γραμμάρια
2,250 κιλά	=	225	2.250	2,25	γραμμάρια
3,089 κιλά	=	3.089	389	30,89	γραμμάρια
2,8 κιλά	=	28	280	2.800	γραμμάρια
3,6 κιλά	=	3.600	360	36	γραμμάρια
5,55 κιλά	=	55	5.550	550	γραμμάρια
0,658 κιλά	=	65	658	65,8	γραμμάρια
0,500 κιλά	=	5	50	500	γραμμάρια

Η. Κύκλωσε το σωστό.

2.056 γραμμάρια	=	20,56	2,56	2,056	κιλά
5.100 γραμμάρια	=	51,0	5,1	5	κιλά
900 γραμμάρια	=	0,9	0,09	0,009	κιλά
450 γραμμάρια	=	45,0	0,450	4,5	κιλά
4.980 γραμμάρια	=	4.098	49,80	4,980	κιλά
1.500 γραμμάρια	=	15,0	1,5	15	κιλά
3.900 γραμμάρια	=	3,9	39,0	39	κιλά
6.707 γραμμάρια	=	67,7	67	6,707	κιλά

Θ. Να αναλύσεις τους παρακάτω αριθμούς.

5.621	=	<input type="text"/>
6.871	=	<input type="text"/>
5.096	=	<input type="text"/>
3.100	=	<input type="text"/>
4.300	=	<input type="text"/>
5.880	=	<input type="text"/>
1.950	=	<input type="text"/>
2.555	=	<input type="text"/>

Ι. Να συνθέσεις τους παρακάτω αριθμούς.

$(2 \times 1.000) + (5 \times 100) + (0 \times 10) + (9 \times 1)$	=	<input type="text"/>
$(5 \times 1.000) + (3 \times 100) + (8 \times 10) + (6 \times 1)$	=	<input type="text"/>
$(6 \times 1.000) + (0 \times 100) + (9 \times 10) + (2 \times 1)$	=	<input type="text"/>
$(6 \times 1.000) + (1 \times 100) + (0 \times 10) + (8 \times 1)$	=	<input type="text"/>
$(1 \times 1.000) + (8 \times 100) + (3 \times 10) + (7 \times 1)$	=	<input type="text"/>
$(3 \times 1.000) + (0 \times 100) + (1 \times 10) + (1 \times 1)$	=	<input type="text"/>
$(5 \times 1.000) + (9 \times 100) + (4 \times 10) + (0 \times 1)$	=	<input type="text"/>
$(4 \times 1.000) + (7 \times 100) + (3 \times 10) + (0 \times 1)$	=	<input type="text"/>

Κ. Βάλε το σωστό σύμβολο ανισότητας ανάμεσα στους αριθμούς.

3.725	<input type="text"/>	3.750	3.999	<input type="text"/>	3.990	6.812	<input type="text"/>	6.128
2.099	<input type="text"/>	2.009	4.900	<input type="text"/>	4.090	5.880	<input type="text"/>	5.800
4.130	<input type="text"/>	4.130	5.100	<input type="text"/>	5.011	4.909	<input type="text"/>	4.099
6.000	<input type="text"/>	5.001	4.320	<input type="text"/>	4.320	5.001	<input type="text"/>	5.100
2.085	<input type="text"/>	2.500	6.090	<input type="text"/>	6.099	6.800	<input type="text"/>	6.008

Λ. Να αναλύσεις τους παρακάτω αριθμούς.

2 κιλά = ____ γραμμάρια
 5 κιλά = ____ γραμμάρια
 3,5 κιλά = ____ γραμμάρια
 4,8 κιλά = ____ γραμμάρια
 6,1 κιλά = ____ γραμμάρια
 3,89 κιλά = ____ γραμμάρια
 5,63 κιλά = ____ γραμμάρια
 2,09 κιλά = ____ γραμμάρια
 0,450 κιλά = ____ γραμμάρια
 5.000 κιλά = ____ τόνοι
 6.500 κιλά = ____ τόνοι

1.200 γραμμάρια = ____ κιλά
 5.030 γραμμάρια = ____ κιλά
 3.089 γραμμάρια = ____ κιλά
 4.760 γραμμάρια = ____ κιλά
 1.275 γραμμάρια = ____ κιλά
 4.206 γραμμάρια = ____ κιλά
 460 γραμμάρια = ____ κιλά
 670 γραμμάρια = ____ κιλά
 347 γραμμάρια = ____ κιλά
 7 τόνοι = ____ κιλά
 3,2 τόνοι = ____ κιλά

Μ. Η κυρία Αγγελική έχει 6,875 κιλά ζάχαρη. Από αυτήν χρησιμοποίησε τα 2,1 κιλά για να φτιάξει ένα κέικ και 1.705 γραμμάρια για να φτιάξει ένα γαλακτομπούρεκο. Πόσα κιλά ζάχαρη της έχει απομείνει;



Απάντηση: _____

Μ. Ένα φορτηγό μεταφέρει 2 κιβώτια. Το κιβώτιο Α έχει βάρος 1.850 κιλά. Το κιβώτιο Β έχει βάρος 1.037 κιλά **περισσότερα**. Πόσο είναι το συνολικό βάρος που μεταφέρει το φορτηγό;



Απάντηση: _____



Βαθμολόγησε εσύ πρώτα τον εαυτό σου.



δούλεψα
έξυπνα



ήταν
εύκολο!



κουράστηκα
πολύ



ήταν
δύσκολο!