


ΟΝΟΜΑ:

ΗΜΕΡΟΜΗΝΙΑ:

ΒΑΘΜΟΣ: ΠΑΡΑΤΗΡΗΣΕΙΣ:

<https://www.i-learn.gr>








1. Συμπλήρωσε την εικόνα.





2. Να σχεδιάσεις την απόσταση σημείου από την κάθε ευθεία και να μετρήσεις το μήκος της.



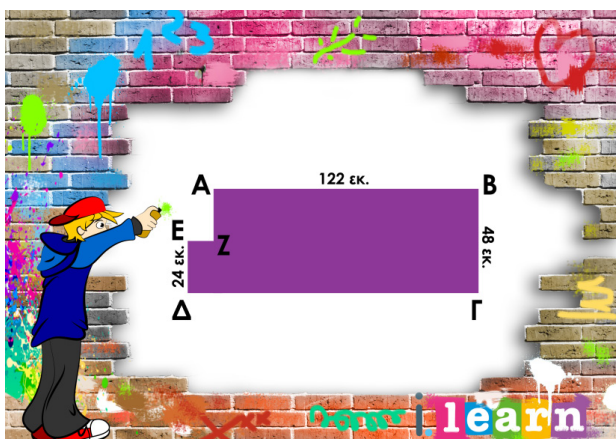
3. Να σημειώσεις με κόκκινο χρώμα τις παράλληλες ευθείες και με πράσινο τις κάθετες στα παρακάτω γράμματα.



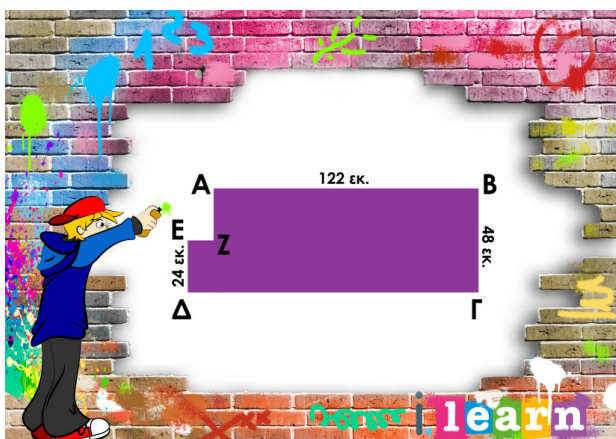
4. Αν το ένα τετράγωνο κουτάκι έχει πλευρά 1 εκ. να υπολογίσεις την περίμετρο και το εμβαδόν των παρακάτω σχημάτων.



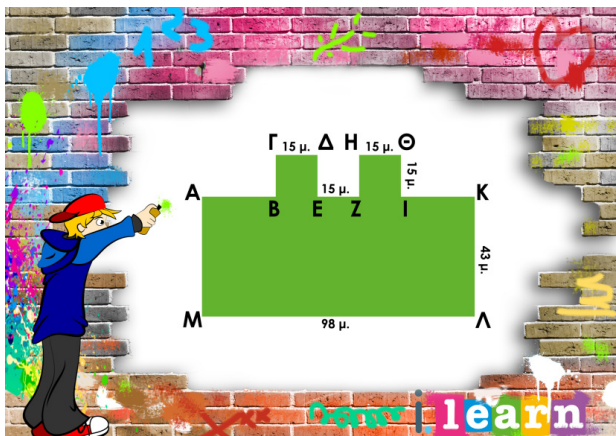
5. Να υπολογίσεις την περίμετρο και το εμβαδόν των παρακάτω σχημάτων.



χώρος για πράξεις:



χώρος για πράξεις:



χώρος για πράξεις:

6. Σε κάθε μια από τις περιπτώσεις βάζω **Σ**, αν η πρόταση είναι **σωστή** και **Λ**, αν η πρόταση είναι **λανθασμένη**.

Οι απέναντι πλευρές του ρόμβου και του τετραγώνου είναι κάθετες.

Οι γωνίες του τετραγώνου και του ορθογωνίου είναι ίσες.

Οι απέναντι πλευρές του ορθογωνίου και του πλάγιου παραλληλόγραμμου είναι παράλληλες.

Κάθε ορθογώνιο είναι και ρόμβος.

Κάθε τετράγωνο είναι και παραλληλόγραμμο.



7. Να σχεδιάσεις ένα τετράγωνο με πλευρά 9 εκ. και να υπολογίσεις την περίμετρο και το εμβαδόν του.

8. Να σχεδιάσεις ένα ορθογώνιο παραλληλόγραμμο με πλευρά 7 εκ. και 12 εκ. και να υπολογίσεις την περίμετρο και το εμβαδόν του.