

ΟΝΟΜΑ:

ΗΜΕΡΟΜΗΝΙΑ:

ΒΑΘΜΟΣ: ΠΑΡΑΤΗΡΗΣΕΙΣ:

<https://www.i-learn.gr>

1. Να κάνεις τις παρακάτω μετατροπές.

85 εκ. = _____ μ.

14 δεκ. = _____ μ.

2.000 χιλ. = _____ μ.

70 δεκ. = _____ εκ.

8 εκ. = _____ μ.

450 χιλ. = _____ εκ.

5 χλμ. = _____ μ.

4 μ. = _____ χιλ.

9 δεκ. = _____ εκ.

1 μ. = _____ δεκ.

6 εκ. = _____ χιλ.

2 δεκ. = _____ μ.

99 εκ. = _____ μ.

10 χιλ. = _____ μ.

18 δεκ. = _____ μ.

63 δεκ. = _____ μ.

0,6 μ. = _____ δεκ.

0,74 μ. = _____ εκ.

2,3 μ. = _____ δεκ.

2,56 μ. = _____ εκ.

0,365 μ. = _____ χιλ.

2,254 μ. = _____ χιλ.

2,08 μ. = _____ δεκ.

65 δεκ. = _____ μ.

2. Διάβασε και κύκλωσε το σωστό αριθμό.

Οι 3 ώρες είναι _____ λεπτά.

200 180 120

Οι 2 ώρες και 8 λεπτά είναι _____ λεπτά.

128 138 118

Οι τεσσεράμισι ώρες είναι _____ λεπτά.

300 280 270

Η μια μέρα είναι _____ λεπτά.

1.400 1.440 1.500

Οι 5 ώρες και 20 λεπτά είναι _____ λεπτά.

320 300 220

Το 1 λεπτό έχει _____ δευτερόλεπτα.

120 80 60

Η μια ώρα έχει _____ δευτερόλεπτα.

360 3.600 3.500

Τα 15 λεπτά έχουν _____ δευτερόλεπτα.

1.000 800 900

Οι 3 ώρες έχουν _____ δευτερόλεπτα.

10.800 10.000 9.800

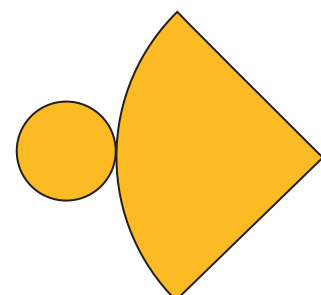
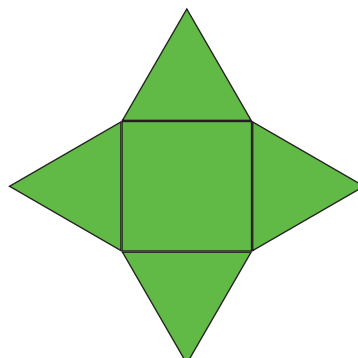
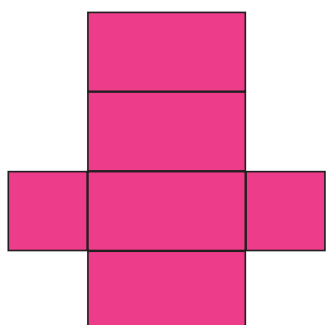
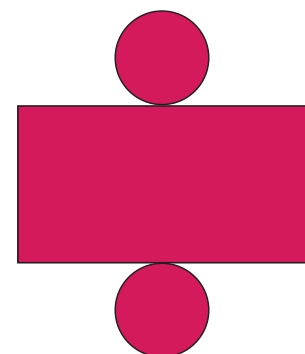
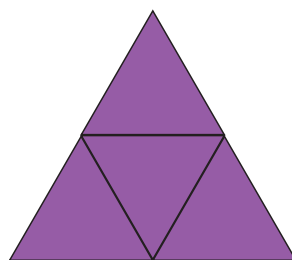
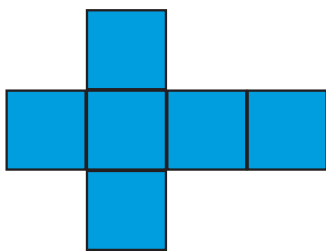
Τα 240 λεπτά είναι _____ ώρες.

5 2 4


3. Να συμπληρώσεις τον παρακάτω πίνακα.


τ.μ.	τ.δεκ.	τ.εκ.	τ.χιλ.
5			
		30.000	
	630		
50			
			440.000
0,9			
		18.000	
	700		

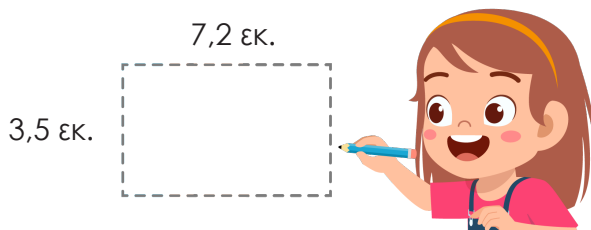
4. Να γράψεις κάτω από κάθε ανάπτυγμα σε ποιο στερεό ανήκει.



5. Να υπολογίσεις το εμβαδόν **ορθογωνίου τριγώνου**, **ορθογωνίου παραλληλογράμμου** και **τετραγώνου** με τις παρακάτω πλευρές.







6. Να συμπληρώσεις τον παρακάτω πίνακα.

τόνοι	κιλά	γρ. ή gr	mg
8			
	3,6		
		450	
			45.000.000
	2,5		
12			
		840	
			90.000.000

7. Ο κύριος Γιώργος έχει ένα χωράφι σε σχήμα ορθογωνίου με μήκος 25 μ. και πλάτος 8 μ.. Κάθε 40 τ.μ. φυτεύει μια πορτοκαλιά. Πόσες πορτοκαλιές θα φυτέψει ο κύριος Γιώργος;

μήκος:
25μ.



πλάτος:
8μ.



κάθε 40 τ.μ.

;

χώρος για πράξεις

Απάντηση: _____

8. Σε ένα επαγγελματικό κτήριο ορθογωνίου σχήματος με πλάτος 50 μ. και μήκος 108 μ. πρόκειται να στρωθεί με μοκέτα η οποία κοστίζει 7,5€ το τ.μ. Πόσο θα στοιχίσει η μοκέτα;

πλάτος: 50μ.



μήκος: 108 μ.

7,5€/τ.μ.


;

χώρος για πράξεις

Απάντηση: _____

9. Μια δεξαμενή έχει σχήμα κύβου με ακμή 8μ. Αν είναι τελείως άδεια, σε πόσες ώρες θα γεμίσει από μια βρύση με παροχή νερού 64 λίτρα το λεπτό;

δεξαμενή



με ακμή 8μ.

64 λίτρα/λεπτό

;

χώρος για πράξεις


Απάντηση: _____

10. Ένας αγώνας ποδοσφαίρου άρχισε στις 21:15. Η διάρκεια του αγώνα είναι 90 λεπτά. Στο ημίχρονο έγινε διακοπή 15 λεπτών και οι καθυστερήσεις είχαν συνολική διάρκεια 10 λεπτά. Τι ώρα τελείωσε ο αγώνας;

90 λεπτά αγώνας	καθυστερήσεις	Τι ώρα τελείωσε;	χώρος για πράξεις
		;	

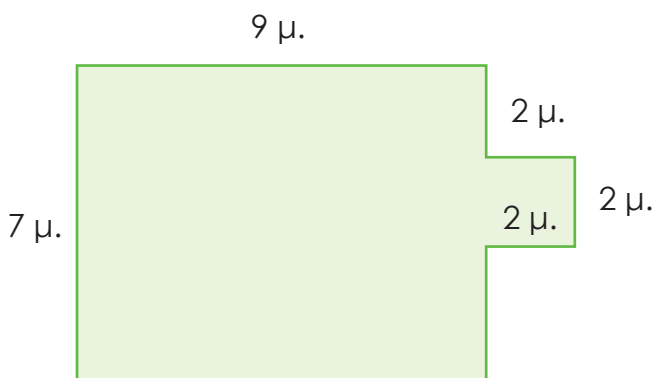
Απάντηση: _____

11. Σ'ένα εργοστάσιο συσκευάστηκαν 1,5 τόνοι φιστικοβούτυρο σε ατομικές συσκευασίες των 25γρ. Πόσες συσκευασίες ετοίμασε το εργοστάσιο;

1,5 τόνοι	25γρ.	Πόσες συσκευασίες;	χώρος για πράξεις
		;	

Απάντηση: _____

12. Στο παρακάτω σχήμα φαίνεται ο κήπος του κ. Λευτέρη. Πόσα μέτρα συρματοπλέγματος θα χρειαστεί για να τον περιφράξει;



χώρος για πράξεις

Απάντηση: _____